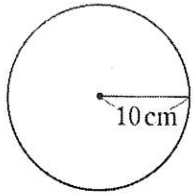


小テスト5 ()組()

1 次の円の面積と周の長さを求めなさい。



(円周率は3.14とする。)

面積・・・ 周の長さ・・・

2 次の数の絶対値を答えなさい。

① -8

② +5

()

()

③ $-\frac{5}{2}$

④ +3.7

()

()

3 次の口に不等号を書き入れて、2数の大小を表しなさい。

① 6 3

② -5 3

③ -2 -6

④ -3.2 -5.4

4 次の3つの数の大小関係を、不等号を使って表しなさい。

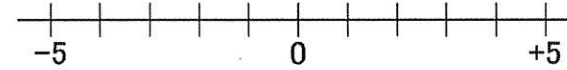
-4、-7、5

点

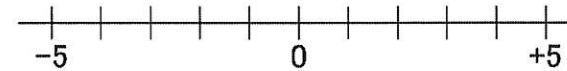
小テスト6 ()組()

1 数直線を使って、次の数を求めなさい。

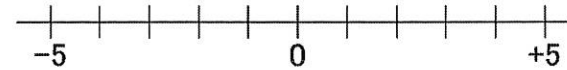
① -2より4大きい数・・・()



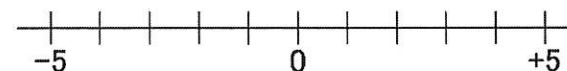
② 3より7小さい数・・・()



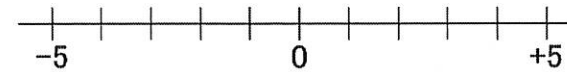
③ 1より-3大きい数・・・()



④ -2より-4小さい数・・・()



⑤ 1より-2小さい数・・・()



点