

1 あいている□にすうじをかきましょう。

$$11-12-\square-\square-15$$

$$16-17-\square-\square-20$$

各5点

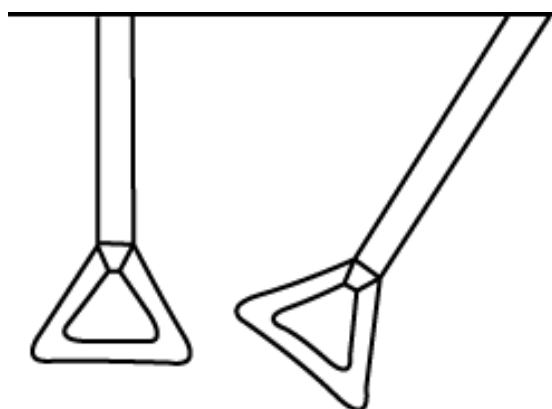

2 けいさんをしましょう

$$10+4= \quad 13+2=$$

$$12-2= \quad 15-3=$$



各5点

3 ながいほうに○をつけましょう



各5点

5 とけいをよみましょう。



各5点

6 けいさんをしましょう

$$2+3+4=$$

$$10-5-4=$$

$$18-8+2=$$

$$15+4-8=$$

各5点

7 くりあがりにきをつけてけいさんしましょう。

$$7+5=$$

$$8+4=$$

各5点

8 くりさがりにきをつけてけいさんしましょう。

$$15-6=$$

$$18-9=$$

各5点