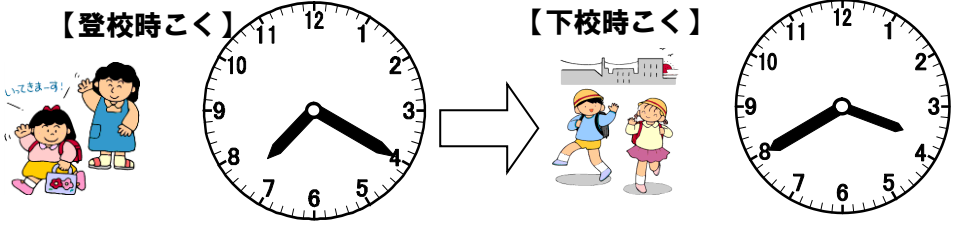
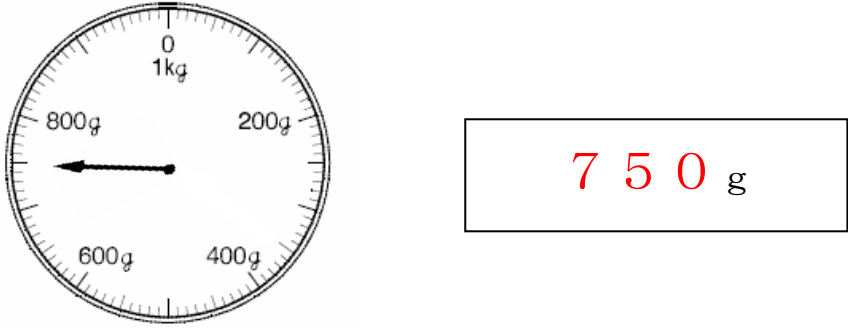


1 下の図を見て、答えましょう。



(1) 登校時こくから下校時こくまでの時間は、何時間何分でしょう。(5点)  
8 時間 20 分 Web-3-⑦

(2) はかりの目もりをよみましょう。(5点) Web-3-⑫



2  に数字を入れましょう。(各5点) Web-3-⑦

(1) 1分 = 60 秒 (2) 135秒 = 2分15秒  
(3) 1 km = 1000 m  
(4) 2800m = 2 km 800 m

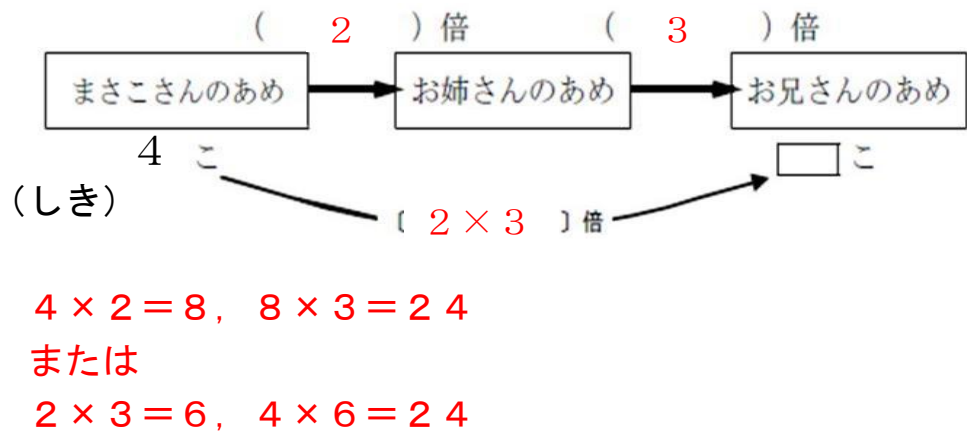
3  にあてはまる長さのたんいをかきましよう。(各5点) Web-3-①

(1) 校舎の長さ.....50 m  
(2) 国語じてんのあつさ.....50 mm  
(3) 車が5分間で走る道のり.....4 km

4 次の計算をしましよう。(各5点)

(1)  $48 \div 5 = 9 \text{ あまり } 3$  Web-3-①  
(2)  $56 \div 9 = 6 \text{ あまり } 2$   
(3)  $4 \times 2 \times 5 = 4 \times (2 \times 5)$   
(4)  $3 \times 4 \times 2 = 3 \times 8$   
(5) 
$$\begin{array}{r} 569 \\ \times 223 \\ \hline 1707 \end{array}$$
 (6) 
$$\begin{array}{r} 607 \\ \times 35 \\ \hline 3035 \end{array}$$


5 まさこさんは、あめを4こもっています。お姉さんはまさこさんの2倍、お兄さんはお姉さんの3倍もっています。お兄さんは、あめを何こもっていますか。(式と答え両方正答で5点)



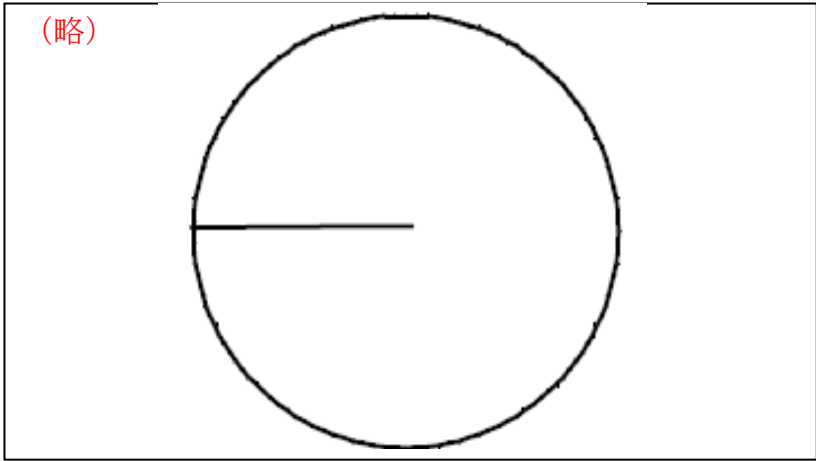
答え 24こ

6 つぎの問題に答えましよう。

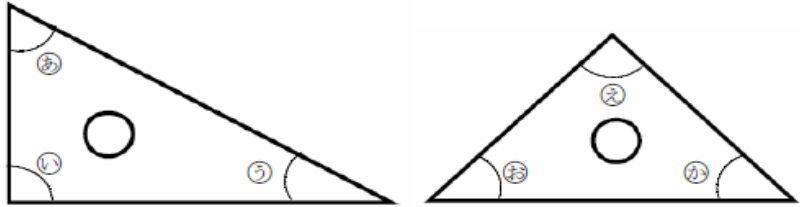
(1) じょうぎとコンパスを使って、辺の長さが5cm, 5cm, 8cmの二等辺三角形をかきましよう。(かいたあとの線は、のこしておきましよう。)(5点)



(2) 円と半径を使って正三角形をかきます。コンパスを使って、下の図につづけてかきましよう。(かいたあとの線は、のこしておきましよう。)(5点)



(3) 三角じょうぎの角の大きさを調べました。



① いちばん小さい角はどれですか。(5点)

う

② 同じ大きさの角はどれとどれですか。(全部正答で5点)

( い ) と ( え )  
( お ) と ( か )