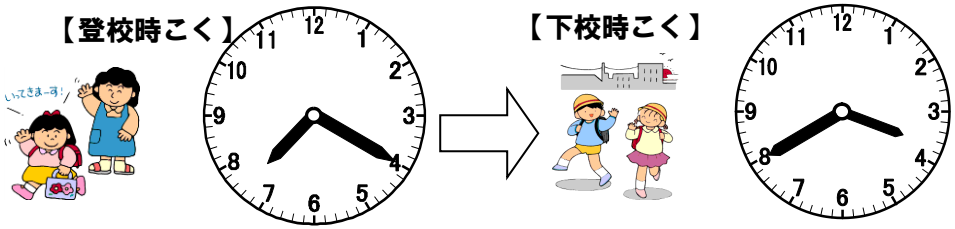


3 年 2 学期 A 問題

1 下の図を見て、答えましょう。

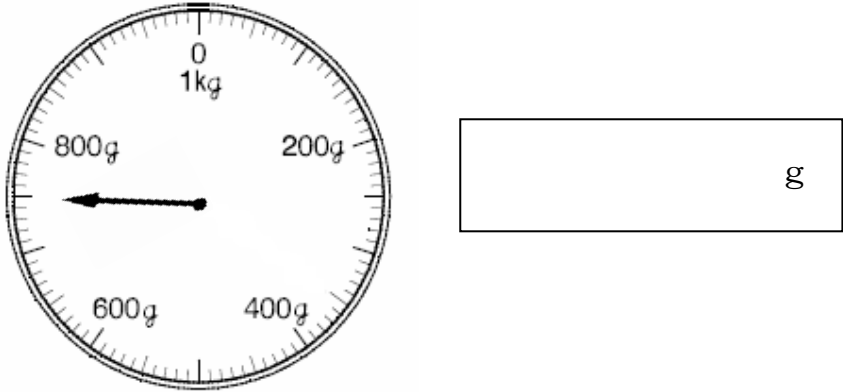


(1) 登校時こくから下校時こくまでの時間は、何時間何分でしょう。(5 点)

時間 分

Web-3-⑦

(2) はかりの目もりをよみましょう。(5点) Web-3-⑫



2 に数字を入れましょう。(各 5 点) Web-3-⑦

(1) 1 分 = 秒 (2) 1 3 5 秒 = 分 秒

(3) 1 km = m

(4) 2 8 0 0 m = km m

3 にあてはまる長さのたんいをかきましよう。(各 5 点) Web-3-①

(1) 校舎の長さ..... 5 0

(2) 国語じてんのあつさ..... 5 0

(3) 車が 5 分間で走る道のり..... 4

4 次の計算をしましよう。(各 5 点)

(1) 4 8 ÷ 5 = Web-3-①

(2) 5 6 ÷ 9 =

(3) 4 × 2 × = 4 × (2 × 5)

(4) 3 × × 2 = 3 × 8

(5) (6)

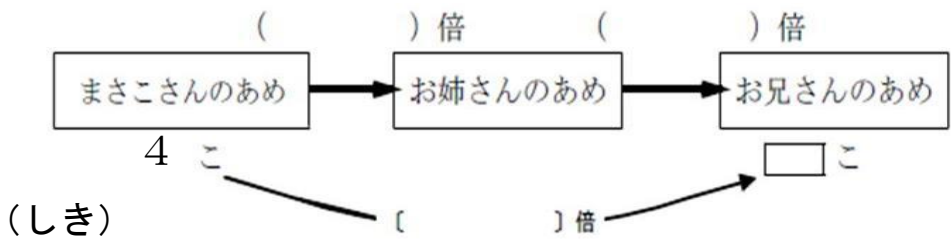
5 6 9

× 3

6 0 7

× 5


5 まさこさんは、あめを 4 こもっています。お姉さんはまさこさんの 2 倍、お兄さんはお姉さんの 3 倍もっています。お兄さんは、あめを何こもっていますか。(式と答え両方正答で 5 点)



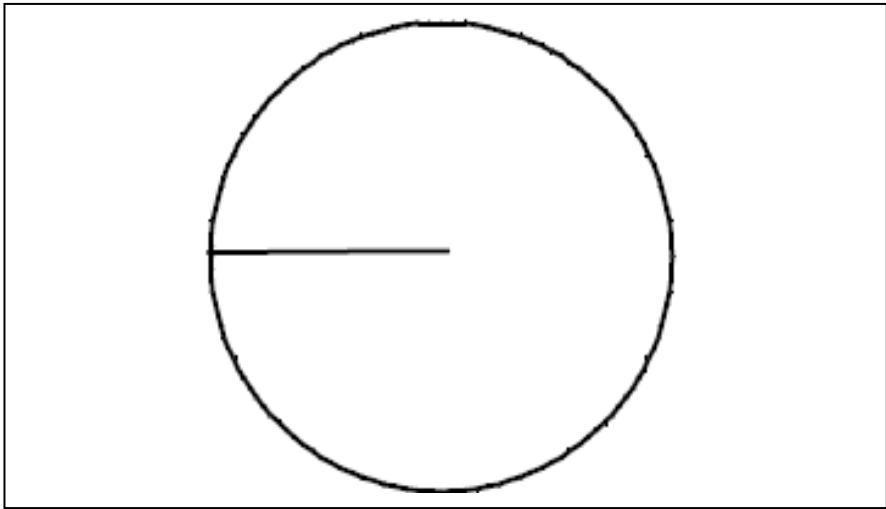
答え

6 つぎの問題に答えましよう。

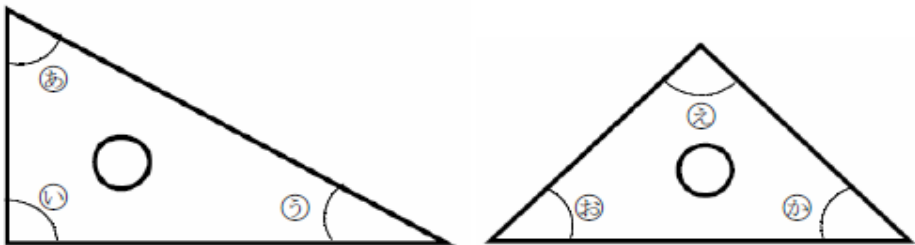
(1) じょうぎとコンパスを使って、辺の長さが 5 cm, 5 cm, 8 cm の二等辺三角形をかきましよう。(かいたあとの線は、のこしておきましよう。)(5点)



(2) 円と半径を使って正三角形をかきます。コンパスを使って、下の図につづけてかきましよう。(かいたあとの線は、のこしておきましよう。)(5点)



(3) 三角じょうぎの角の大きさを調べました。



① いちばん小さい角はどれですか。(5 点)

② 同じ大きさの角はどれとどれですか。(全部正答で 5 点)

() と ()

() と ()