

単 元 名	3 年「表とグラフ」①	組		番		氏 名	
-------------	-------------	---	--	---	--	--------	--

R33 (1)

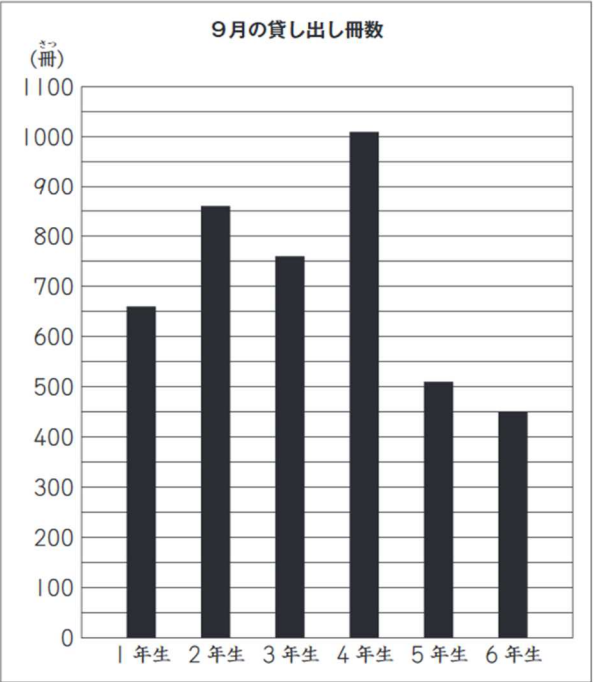
【第3学年】 D データの活用

ひよりさんたちは、10月の図書委員会で、図書室の本の貸し出しの様子について話し合っています。



最近、5年生と6年生は、ほかの学年より本を借りていないのではないですか。

そこで、9月の貸し出し冊数^{さっすう}を調べ、下のグラフに表しました。



(1) 左のグラフの、6年生の貸し出し冊数は何冊ですか。

下の ア から エ までの中から、最もふさわしいものを1つ選んで、その記号を書きましょう。

ア 401 冊

イ 405 冊

ウ 410 冊

エ 450 冊

正答率 95.8%

単 元 名	3 年「表とグラフ」①	組		番		氏 名	
-------------	-------------	---	--	---	--	--------	--

H26B2 (2)

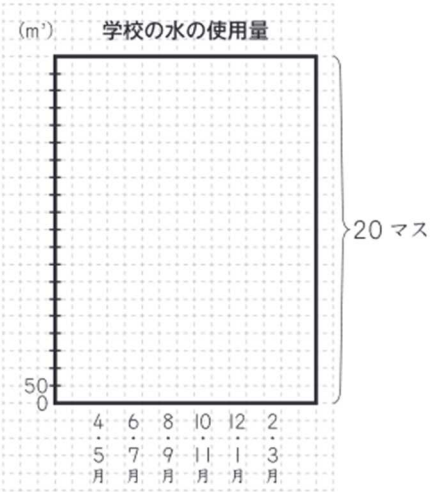
あきらさんは、学校の水の使用量について調べるために、事務室で下の資料をもらいました。

学校の水の使用量

月	4・5 月	6・7 月	8・9 月	10・11 月	12・1 月	2・3 月	1 年間
使用量(m³)	550	1500	950	900	800	800	5500

※ 「4・5 月」は、「4 月と 5 月の合計」を表しています。

(2) あきらさんは、左の学校の水の使用量の表を棒グラフに表すことにしました。そこで、ノートに、下のような縦 20 マス、横 15 マスのわくをかき、縦の 1 目もりを 50 m³ にしました。



すると、4・5 月の棒はわくに入りますが、棒がわくに入らない月があることに気付きました。

棒がわくに入らない月を、下の **1** から **5** までの中から 1 つ選んで、その番号を書きましょう。また、その月の棒がわくに入らないわけを、言葉と数を使って書きましょう。

正答率 69.3%

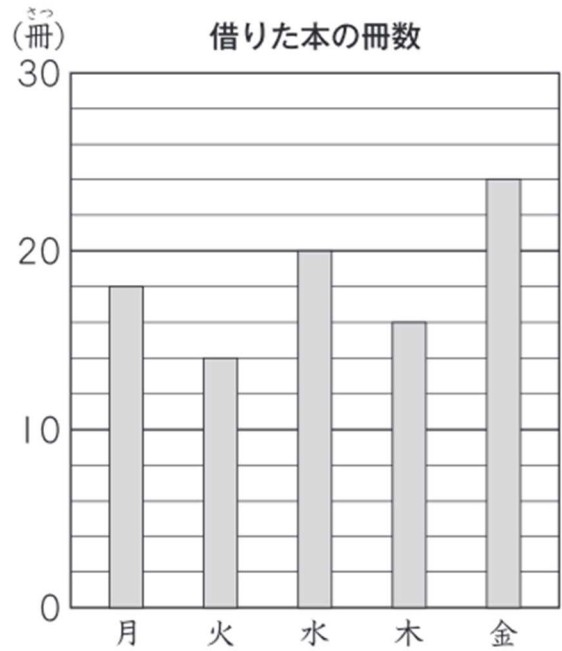
- 1** 6・7 月
- 2** 8・9 月
- 3** 10・11 月
- 4** 12・1 月
- 5** 2・3 月

(番号)
(理由)

単 元 名	3 年「表とグラフ」①	組		番		氏 名	
-------------	-------------	---	--	---	--	--------	--

H25A9

下の棒グラフは、ある学級の児童が、1 週間に借りた本の冊数を調べたものです。



正答率 85.8%

曜日	冊
----	---

いちばん多く本を借りたのは何曜日ですか。また、その曜日に何冊借りていますか。それぞれ答えを書きましょう。