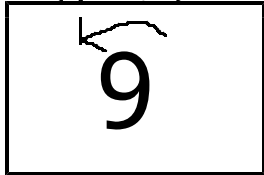


【小学校算数 学習単元評価問題 小1 - 】

「かずと すうじ」	()くみ ()ばん	なまえ
-----------	----------------	-----

考え方 / 1	技 能 / 7	知・理 / 2	A問題 / 9	B問題 / 1	/ 10
------------	------------	------------	------------	------------	------

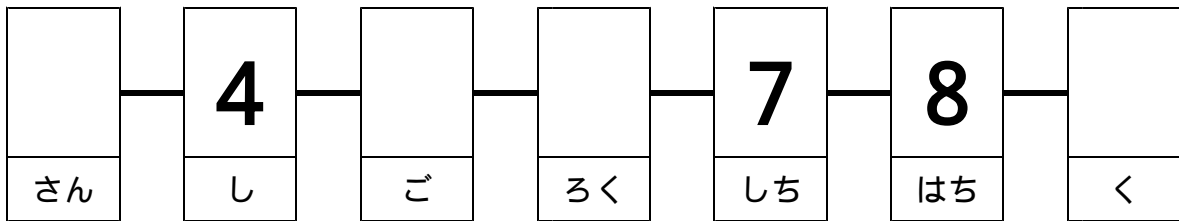
1 すうじの かきはじめの ところに やじるしを かきましょう。



(1) 7 (2) 5

[1][知・理][A問題]

2 □ に すうじを かきましょう。



[2][知・理][A問題]

3 [れい] に ならって かきましょう。

え			
ま る			
すうじ	4		
よびかた	し	に	さん

[3][技能][A問題]

4 すうじと えを せんで むすびましょう。

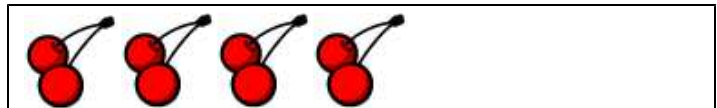
4 ・



3 ・



6 ・



[4] ~ [6][技能][A問題]

【小学校算数 学習単元評価問題 小1 - 】

「かずと すうじ」

解答例及び評価規準，評価の観点，設定通過率一覧

問題 番号	解 答 例	評価規準	評価の観点等					設 定 通過率 (%)
			考 え 方	技 能	知 ・ 理	A 問 題	B 問 題	
[1]	↓ 7 ↓ 5	数字を正しく表している。						9 0
[2]	3 5 6 9	順番を数えて，正しい数字で表すことができる。						9 0
[3]	かぶとむし 「 」 「 2 」 くわがたむし 「 」 「 3 」	ものの個数と を1対1 で対応して数え，正しい 数字で表すことができる。						8 5
[4]	4 = さくらんぼ	ものの個数を正しく数 え，正しい数字を選ぶこ とができる。						8 5
[5]	3 = メロン	ものの個数を正しく数 え，正しい数字を選ぶこ とができる。						8 5
[6]	6 = アイスクリーム	ものの個数を正しく数 え，正しい数字を選ぶこ とができる。						8 5
[7]	てんとうむし = 6	ものの個数を正しく数 え，正しい数字で表すこ とができる。						8 0
[8]	とんぼ = 8	ものの個数を正しく数 え，正しい数字で表すこ とができる。						8 0
[9]	りんご = 5 ぶどう = 4 りんごに「 」	ものの個数の分だけ に 色をぬり，大小の比較を することができる。						7 5
[10]	てんとうむしを 4 ひき つか まえました。 とんぼを 3 ひき つかまえ ました。 だから，とれたかずが おおい のは です。	ものの個数の 分だけ に色 をぬり，大小 の比較を文章 表記によりす ることができる。						7 0
合計 10 問			1	7	2	9	1	82.5