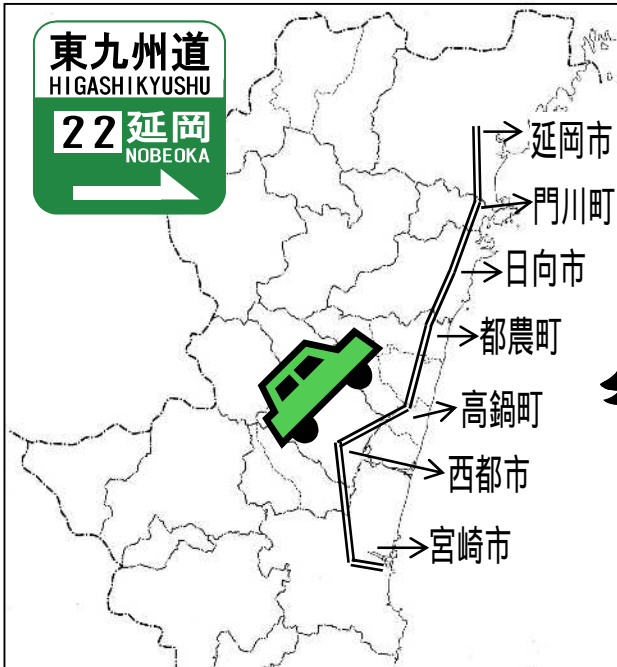


【小学校算数 活用問題 小6 - 8】
 (単元評価問題関連：小4 - 小6 -)

「東九州自動車道」	()組	氏名
	()番	


のぞむくんの家族は、休日の昼食でアユを食べに、住んでいる宮崎市から延岡市へ、自動車で行きます。高速道路の東九州自動車道を通して移動することにしました。



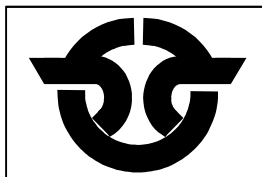
のぞむくん
 高速道路は、インターチェンジという場所から、入り出たりするんだね。

お母さん
 そうよ。宮崎市から延岡市までの、7つの市町にインターチェンジが設置されているのよ。


のぞむくんは、車の中から外を見ていると、7つの市町と宮崎県のマークを見つけました。すると、ある特ちょうに気づきました。




A : 宮崎市




B : 西都市



C : 高鍋町




D : 都農町




E : 日向市



F : 門川町



G : 延岡市



H : 宮崎県

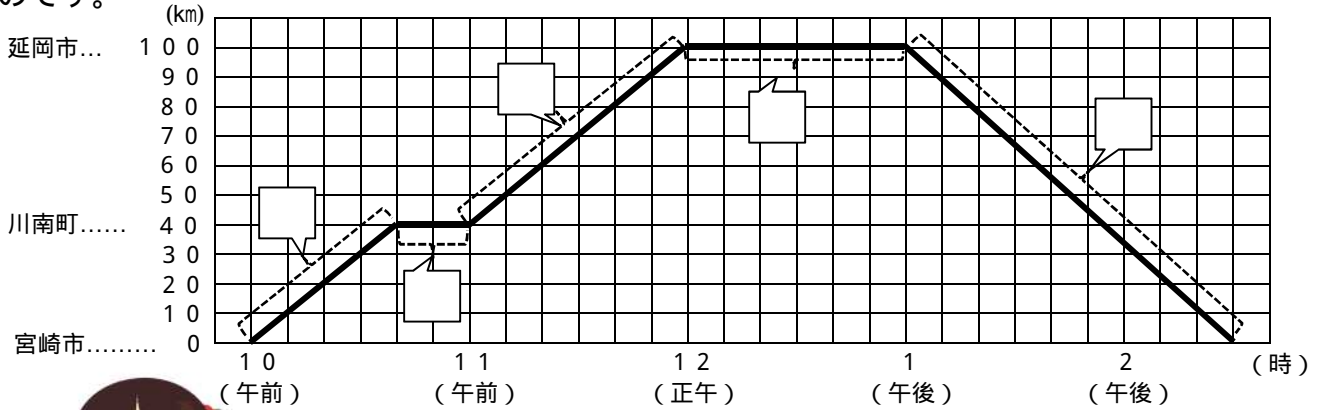
(1) A ~ Gの市町のマークで、線対称をすべて選びましょう。その理由も答えましょう。

答え		理由	
----	--	----	--

(2) Hの宮崎県のマークは、点対称といえるでしょうか。その理由も答えましょう。

答え		理由	
----	--	----	--

下のグラフは、のぞむくんたち家族を乗せた自動車が、走ったときの様子を表したものです。



思い出を日記に書きたいな。お兄ちゃん、グラフから分かることを教えて。川南町にはパーキングエリア(駐車場)があったよね。

妹

- (3) のぞむくんは、上のグラフをから分かることを ~ の区間に分けて妹に伝えました。次の()の中にあてはまる言葉や数字を書きましょう。



のぞむくん

の区間から、宮崎市から川南町までの道のりが、() km だと分かるね。

の区間は移動していないので、()時()分から()時まで、休けいしていたことが分かるね。

の区間から、川南町から延岡市までの時間は、()分間かかったことが分かるね。

の区間は、()市から()市へ移動しているね。

- (4) のぞむくんの家族の自動車がもっとも速く走ったのは、 : 宮崎市から川南町, : 川南町から延岡市, : 延岡市から宮崎市の3つの中で、どの区間ですか。また、そのときの速さは時速何 km でしょう。理由を言葉や式などを使って説明しましょう。

番号	
答え	時速() km

(説明)