




(3) ゆうこさんは、サケのたまごが育っていくようすを調べ、次のあ～えのようなカードをつくりました。下の①～③の問いに答えなさい。


ゆうこさんがかいたカード

あ




☆ 目が目立つ。  
 ☆ 赤い血が流れている。  
 ☆ (ア) がリズムよく動いている。

い



☆ たまごと精子が結びついて60日ぐらいたつと、たまごのまくをやぶって子どもがかえる。

う



☆ 直径7mm。ピンク色。  
 ☆ たまごの中に、色がこい部分がある。

え



☆ 子どもが、はらにふくろをつけて泳いでいる。

① あ～えのカードを、たまごが育っていく順に並びかえましょう。

⇒                      ⇒                      ⇒

② カードの (ア) に入る言葉を答えましょう。

③ えのカードにあるふくろは、しばらくすると小さくなります。その理由を答えましょう。

(4) ゆうこさんは、カードを見ながら、授業で学んだメダカのたまごの特ちょうと、たまごが育っていくようすをくらべました。すると、にているところやにいていないところがあることに気づきました。次のゆうこさんがまとめた [                      ] に入る文を答えましょう。

まとめ

メダカとサケのたまごの特ちょうやたまごが育っていくようす

〈にているところ〉

○ たまごの中で目が目立つ

○ [                      ]

〈にいていないところ〉

○ たまごの色や直径

○ たまごから子どもがかえるまでにかかる日数