

【小学校算数 基本問題 小3 - 】

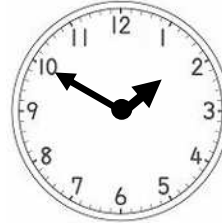
「時間と長さ」No. 1	() 組	氏
	() 番	名

1 次の時間を答えましょう。(単元評価問題:小3・ 1)

(1) そうじの時間

(1)		分
-----	--	---

【始める時こく】



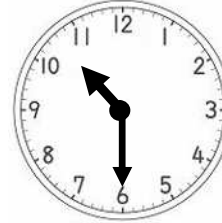
【終わる時こく】



(2) 図工の時間

(2)	時間	分
-----	----	---

【始める時こく】




【終わる時こく】



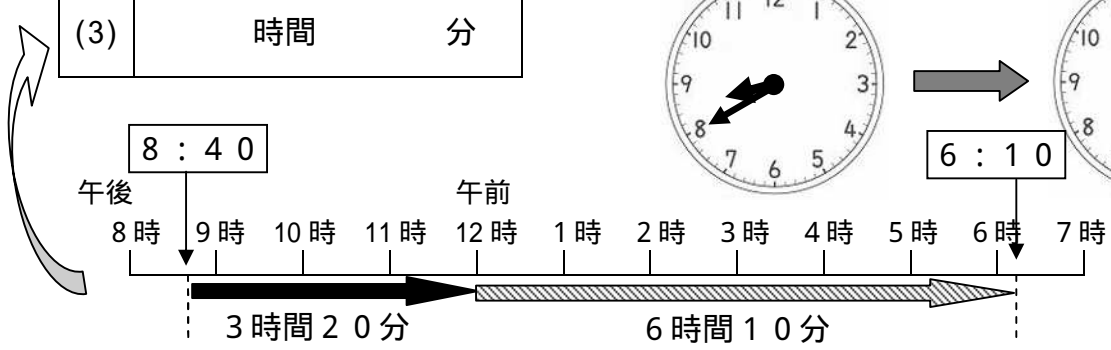
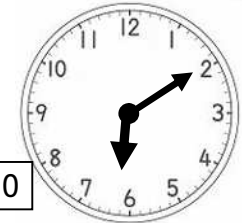
(3) すいみん時間

(3)	時間	分
-----	----	---

【ねた時こく】



【起きた時こく】



2 にあてはまる数をかきましょう。(単元評価問題:小3・ 2)

(1) 125秒 = 分 秒

(2) 1分20秒 = 秒

3 次の時こくをもとめましょう。(単元評価問題:小3・ 3)

(1) 8時20分の30分前の時こく

(2) 4時30分の50分後の時こく

(1)	時	分
(2)	時	分

【小学校算数 基本問題 小3 - 】

「時間と長さ」No. 2	()組	氏
	()番	名

4 にあてはまる長さのたんいを答えましょう。(単元評価問題:小3・)

(1) つくえの横の長さ... 50 (2) 1時間に歩く道のり... 5

(3) まどガラスのあつさ... 5 (4) うんどうじょう運動場1周の長さ... 200

5 あすかさんの家から学校までは1km200m, 学校からようち園までは800mあります。(単元評価問題:小3・,,)

(1) あすかさんの家から学校の前を通過して、ようち園までの道のりはどれだけですか。

式	
---	--

答え	km
----	----

(2) あすかさんの家から学校までは,学校からようち園までより,どれだけ遠いですか。

式	
---	--

答え	m
----	---

6 次の計算をしましょう。(単元評価問題:小3・,,)

(1) $900\text{ m} + 300\text{ m}$

(1)	km	m
-----	----	---

(2) $2\text{ km}200\text{ m} + 800\text{ m}$

(2)		km
-----	--	----

(3) $2\text{ km} - 400\text{ m}$

(3)	km	m
-----	----	---

(4) $3\text{ km}500\text{ m} - 900\text{ m}$

(4)	km	m
-----	----	---