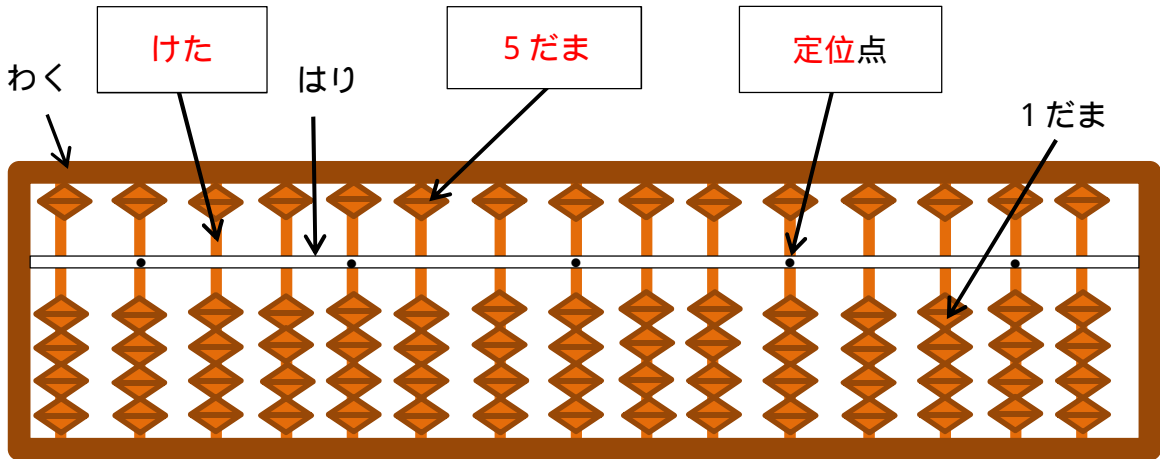


【小学校算数 基本問題 小3 - 】

<p>「そろばん」 1</p>	<p>()組 ()番</p>	<p>氏名</p>
-----------------	----------------------	-----------

1 そろばんについて、次の にあてはまる言葉をかきましょう。(単元評価問題:小3- 1)



2 次の数をよみましょう。 の中に数字をかきましょう。(単元評価問題:小3- 2)

(1)

(2)

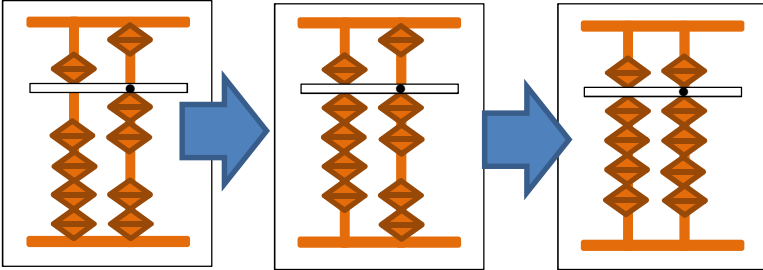
(3)

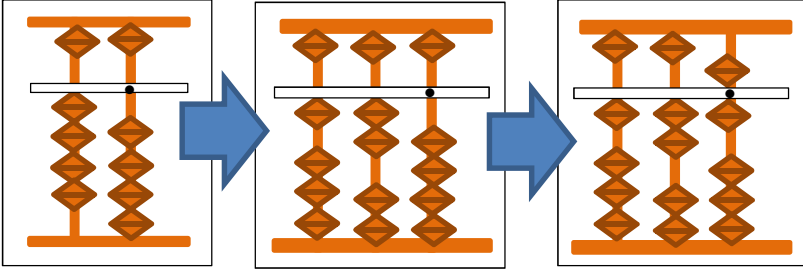
(4)

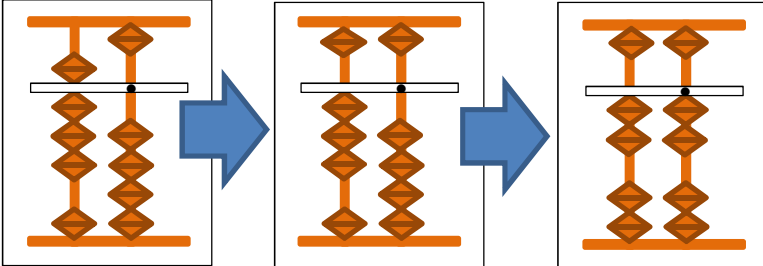
【小学校算数 基本問題 小3 - 】

「そろばん」 2	()組 ()番	氏名
----------	--------------	----

3 次の(1)~(3)の図が表している計算の式を、下のア~カからえらんで、にかきましょう。(単元評価問題:小3-3)

(1)  }

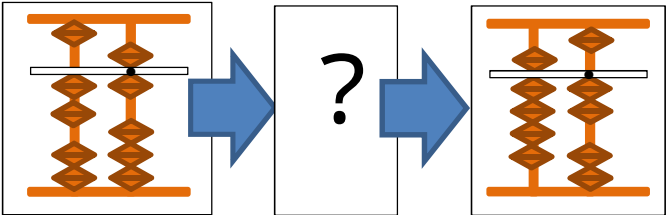
(2)  }

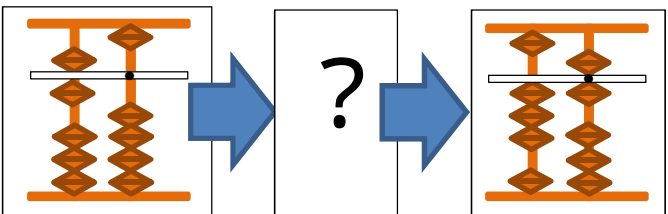
(3)  }

- | | | |
|-----------|-----------|-----------|
| ア 80 - 58 | イ 30 + 86 | ウ 80 + 22 |
| エ 40 + 86 | オ 12 + 91 | カ 52 + 47 |

4 次の(1),(2)の図が表している計算の式と答えを にかきましょう。

(単元評価問題:小3-4)

(1)  }

(2)  }