

【小学校算数 基本問題 小4 - 】

「角とその大きさ」No.1	()組 ()番	氏名
---------------	--------------	----

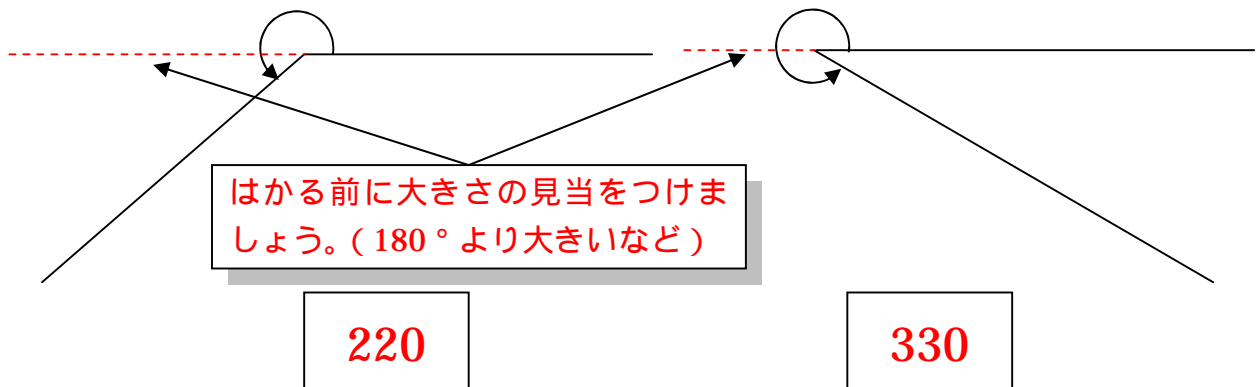
1 次の にあてはまる数や言葉^{ことば}を書きましょう。(単元評価問題：小4 - 2)

(1) 右の角の大きさは で、 と言います。



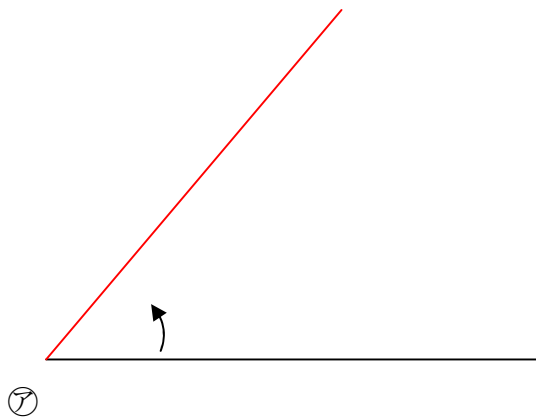
(2) 半回転の角の大きさは です。

2 分度器を使って、角の大きさをはかりましょう。(単元評価問題：小4 - 3)

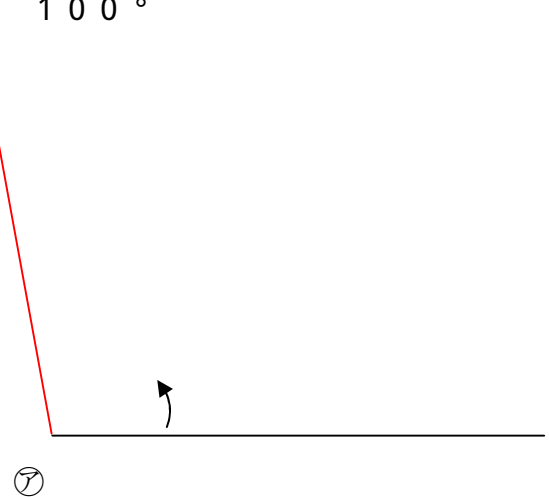


3 ⑦を頂点として、次の大きさの角をかきましょう。(単元評価問題：小4 - 4)

50°



100°

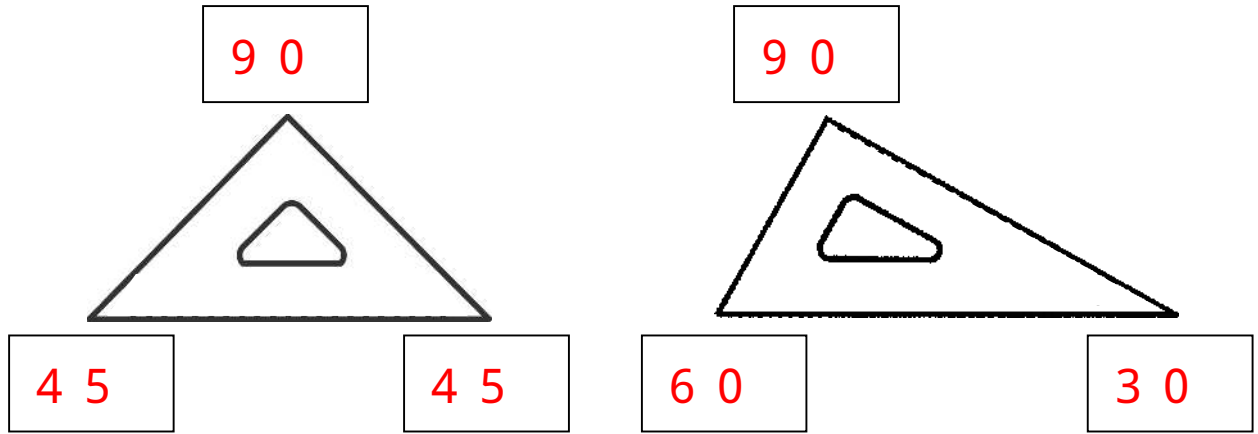


【小学校算数 基本問題 小4 - 】

「角とその大きさ」No.2	()組	氏名
	()番	

4 三角じょうぎのそれぞれの角度は何度でしょう。分度器を使わずに求めましょう。

(単元評価問題：小4 - 5)



5 1組の三角じょうぎを使って、いろいろな角をつくりました。㉞~㉟の角の大きさはそれぞれ何度でしょう。分度器を使わずに求めましょう。(単元評価問題：小4 - 5)

