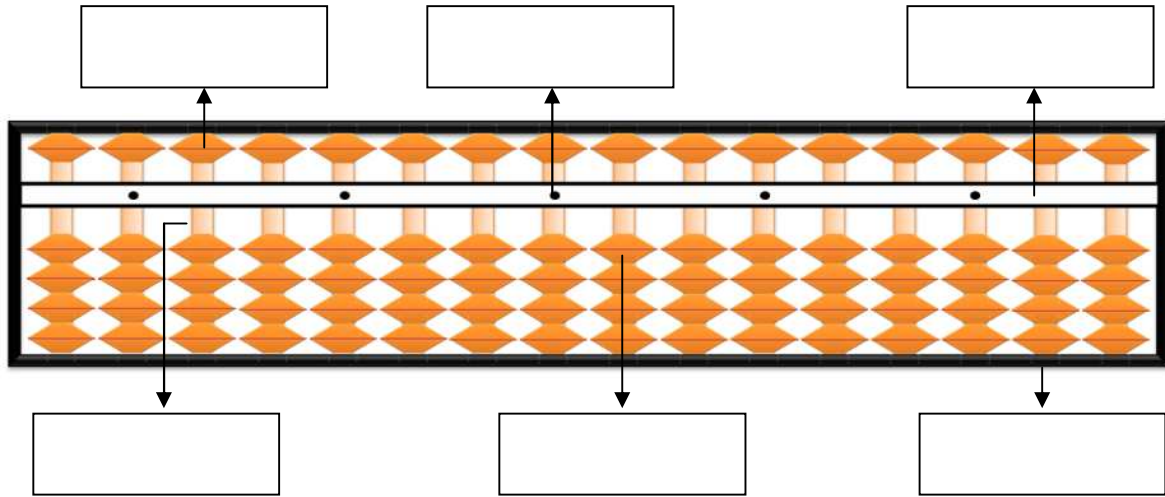


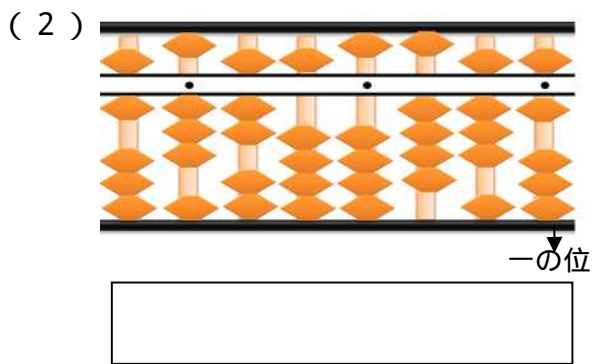
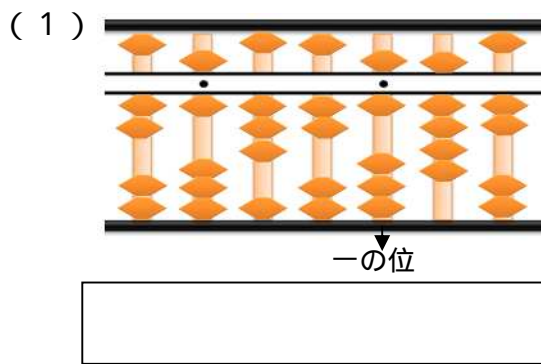
【小学校算数 基本問題 小4 - 】

「そろばん」No.1	(組)	氏名
	(番)	

1 下のそろばんの, にあてはまる名前をかきましょう。(単元評価問題:小4・1)

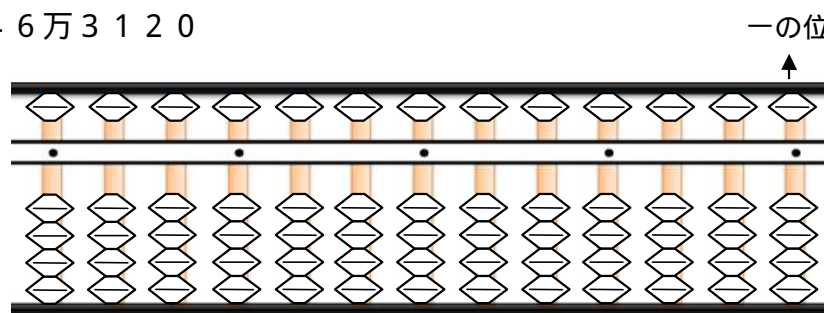


2 次の数をよみましょう。(単元評価問題:小4・2)



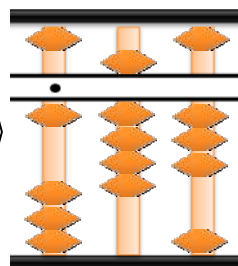
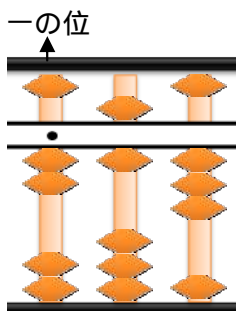
3 次の数を入れましょう。(入れるたまをぬりつぶしましょう。)(単元評価問題:小4・3)

3兆42億546万3120

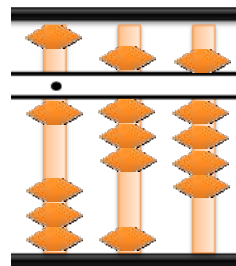


4 次の計算をします。 にあてはまる数を入れましょう。(単元評価問題:小4・4)

$2.63 - 0.74$



0.7をひくには,
1をはらって,
 を
入れる。



0.04をひくには,
0.1をはらって,
 を
入れる。