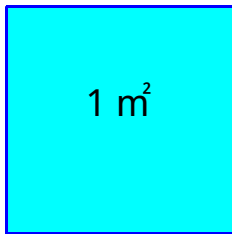


【小学校算数 基本問題 小6 - 】

「量の単位」No.1	()組 ()番	氏名
------------	--------------	----

- 1 面積が 1 m^2 の正方形の1辺の長さは、何cmでしょう。 (単元評価問題:小6 - - 2)


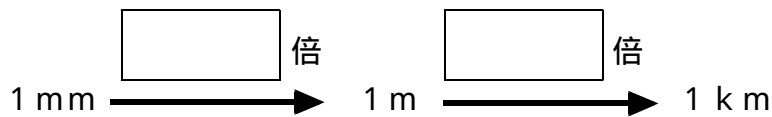


答え	cm
----	----


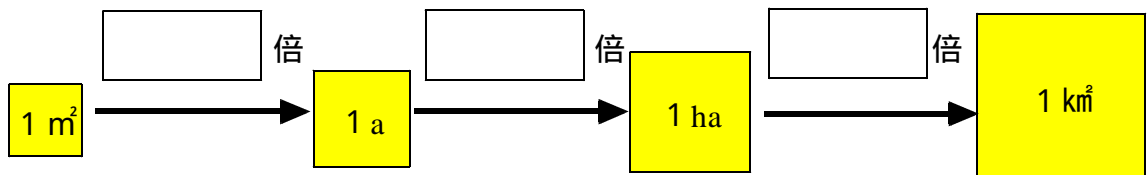
- 2 単位の前につくことばには、次のような意味があります。

ミリ m	センチ c	デシ d	...	デカ da	ヘクト h	キロ k
$\frac{1}{1000}$ 倍	$\frac{1}{100}$ 倍	$\frac{1}{10}$ 倍	...	10 倍	100 倍	1000 倍

上の表を参考にして、次の にあてはまる数をかきましょう。(単元評価問題:小6 - - 4)



- 3 次の にあてはまる数をかきましょう。(単元評価問題:小6 - - 4)



【小学校算数 基本問題 小6 - 】

「量の単位」No.2	()組 ()番	氏名
------------	----------------------	----

4 次の量を () の中の単位で表しましょう。(単元評価問題:小6・ - 5)

(1) 2.5 km (m)

(1)	m
-----	---

(2) 7 m² (c m²)

(2)	c m ²
-----	------------------

(3) 3.7 ha (a)

(3)	a
-----	---

(4) 18 a (m²)

(4)	m ²
-----	----------------

(5) 4700 mg (g)

(5)	g
-----	---

(6) 5.1 t (kg)

(6)	kg
-----	----

(7) 900 mL (L)

(7)	L
-----	---

(8) 2.5 kL (m³)

(8)	m ³
-----	----------------

5 2 Lの水が入るペットボトルを使って, 1辺の長さが1 mの立方体の容器をいっぱいにするには, 2 Lのペットボトルは何本必要ですか。(単元評価問題:小6・ - 6)

答え	本
----	---