

めいじ 明治の国づくりを進めた人々	( )組	氏
	( )番	名

ゆうじさんたちのクラスでは、社会科の授業で、明治時代に活やくした人物を選んでレポートをつくることになり、ゆうじさんは、川越進と小村寿太郎の宮崎県出身2人を選び、下の表1・2を作成していきました。

表1 ゆうじさんのレポートの一部（前半）

**宮崎県の設置に活躍した 川越進**

1 川越進を選んだ理由

2013(平成25)年は今の宮崎県ができて130年目にあたるが、当時、鹿児島県に統合されていた宮崎県を、鹿児島から分離するのに活やくしたのが川越進という人物だと知って、とても興味をもったから。

2 川越進に関する主なできごと

1848年 今の宮崎市清武町に生まれる。

1873年 ㊦ 江戸時代までの藩がなくなり、県(美々津、都城)が置かれる。

1876年 美々津県と都城県が、鹿児島県に統合される。


↑  
⇕  
↓

※川越進たちが宮崎県の設置について運動する。

1883年 鹿児島から独立した今の宮崎県が誕生。初代の県議会議長になる。

1890年 ㊧ 日本で初めて行われた選挙に当選し、宮崎県初の衆議院議員となる。

宮崎県庁内にある銅像



(1) 表1の中の下線部㊦について、藩が廃止され県が置かれたことを何というか書きましょう。

ゆうじさんは、表1の中の下線部㊧について調べるうち、次の資料1・2を見つけ、ひろこさんと下のような会話をしました。

(※資料1・2は、県統計調査課資料より作成)

**【資料1 第1回衆議院議員選挙(宮崎1区)】**

実施日 1890年7月1日 投票率\*91.7%

立候補者	得票数
川越 進	1115 当選
〇〇 〇〇	52
△△ △△	8

\*投票率…有権者のうち実際に投票した人の割合

**【資料2 当時の宮崎県の様子】**

\*有権者…選挙で投票をすることができる人

1888年の人口	404,300人
1890年の有権者数*	3,530人
直接国税15円以上納税者	3,819人

人口の約0.9%

ゆうじ: 資料1を見ると、川越進さんは多くの人の支持を受けていたことが分かるね。

ひろこ: そうだね。それに、投票率が90%をこえているなんてすごいね。

この当時の有権者は、選挙に対する関心がとても高かったんでしょね。

ゆうじ: でも、資料2を見ると、1890年の宮崎県の有権者数はとても少ないよ。当時の人口の約0.9%しかいないけど、どうしてこんなに少ないのかな。

ひろこ: それは、当時はまだ女性の権利が十分ではなくて、選挙で投票することのできる有権者は、25才以上で

だけだったからだよ。全国の有権者数も、人口の約1%しかいなかったそうよ。

(2) 上の会話文中の  に適する文章を、資料2の内容や会話文を参考にして、「納税額」や「性別」の視点から書きましょう。

当時の有権者は、25才以上で

だけだったから。

表2 ゆうじさんのレポートの一部（後半）

**郷土の生んだ外交官 小村寿太郎**

宮崎県総合文化公園内にある銅像

1 小村寿太郎を選んだ理由

日露戦争後のポーツマス条約を結んだり、㊦不平等な条約の改正に活やくしたりした人物が宮崎県出身の小村寿太郎だと知り、とてもほこりに思い、興味がわいたから。



成績ばつぐんでイギリス留学中は学生たちからも尊敬されていた。

2 年表（小村寿太郎と関係する日本のできごと）

1858年 アメリカなどと条約を結ぶ。（日本にとって不平等な内容）

- ① 1894年 日本と中国との戦争(日清戦争)が始まる。
- ② 1902年 日本とイギリスが同盟(日英同盟)を結ぶ。
- ③ 1904年 日本とロシアとの戦争(日露戦争)が始まる。
- ④ 1905年 ㊦ 日露戦争後の講和条約(ポーツマス条約)を結ぶ。

(3) ゆうじさんは、上の表2中の「2年表」の中に、「小村寿太郎が条約改正に成功し、不平等条約が改正された」という文章を入れようと考えています。年表の中の①～④のどの時期に入ればよいかを、番号で答えましょう。

番号	
----	--

(4) 上の表2中の下線部㊦について、小村寿太郎が改正したのはどのような内容だったのかを下のア～ウから選んで、記号で答えましょう。

ア 領事裁判権をなくすことに成功した  
 イ 軍事同盟を結ぶことに成功した  
 ウ 関税自主権を回復した

記号	
----	--

ゆうじさんは、上の表2中の下線部㊦について調べる中で資料3を見つけ、小村寿太郎が努力して結んだ条約に対し、なぜ人々が不満をもったのか疑問に思いました。そこで下の資料4を作成し、人々が不満をもった理由をまとめることにしました。

**【資料3 日比谷焼き打ち事件】**


条約の内容に不満をもった人々は、1905年9月5日、「講和条約反対国民大会」に参加しようとして、東京の日比谷公園前に集まりました。大会を中止させようとした警官としようとして暴動となり、多くの建物などが焼き打ちされました。  
 (※国立公文書館ホームページより作成)

(5) 資料4をもとに、日露戦争後の講和条約の内容に対して人々が不満をもった理由を考え、書きましょう。


**【資料4 日清戦争と日露戦争の比かく】**

(※日本長期統計総覧、国立公文書館資料から作成)

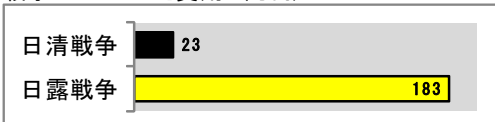
1 戦死した人の数(人)



2 負傷した人の数(人)



3 戦争にかかった費用(万円)



4 講和条約で日本が得た主なもの

(1) 下関条約 (日清戦争後の講和条約)

- 賠償(ばいしょう)金 … 約3億1000万円
- 領土 … リャオトン半島、台湾など
- その他 … 朝鮮の独立をみとめる など

(2) ポーツマス条約 (日露戦争後の講和条約)

- 賠償(ばいしょう)金 … なし
- 領土 … 樺太(からふと)の南半分
- その他 … 韓国における日本の勢力を認めるなど