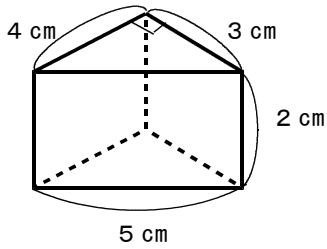


【中学校数学 基本問題 中1-⑥-2】

<p>「空間図形」 立体の表面積と体積 No. 1</p>	<p>() 組 () 番</p>	<p>氏 名</p>
-----------------------------------	------------------------	----------------

1 次の立体の側面積，表面積，体積を求めなさい。(単元評価問題：中1-⑥②④)

(1) 三角柱

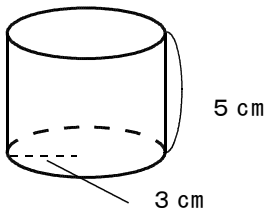


側面積 _____ cm^2

表面積 _____ cm^2

体積 _____ cm^3

(2) 円柱

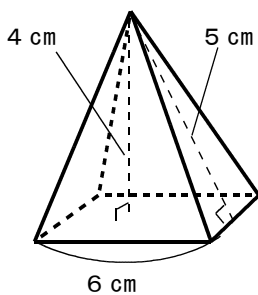


側面積 _____ cm^2

表面積 _____ cm^2

体積 _____ cm^3

(3) 正四角錐

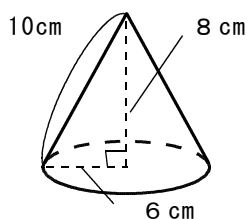


側面積 _____ cm^2

表面積 _____ cm^2

体積 _____ cm^3

(4) 円錐



側面積 _____ cm^2

表面積 _____ cm^2

体積 _____ cm^3

